



امتحان مادة : الدراسات الإجتماعية
للصف : السادس
للعام الدراسي ١٤٣٩ / ١٤٤٠ هـ - ٢٠١٨ / ٢٠١٩ م
الدور الأول - الفصل الدراسي الثاني

- زمن الامتحان : (ساعة ونصف) ● عدد صفحات أسئلة الامتحان : (٧) صفحات.
- الإجابة في الدفتر نفسه .

		اسم الطالب
الصف		المدرسة

التوقيع بالاسم		الدرجة		السؤال
المصحح الثاني	المصحح الأول	بالحروف	بالأرقام	
				١
				٢
				٣
				٤
				٥
مراجعة الجمع	جمعه			المجموع
				المجموع الكلي

(١)

المادة: الدراسات الاجتماعية الصف: السادس الدور الأول - الفصل الدراسي الثاني
العام الدراسي ٢٠١٨/٢٠١٩ م

أجب عن جميع الأسئلة الآتية

السؤال الأول: ضع دائرة حول رمز الإجابة الصحيحة لكل مفردة من المفردات الآتية: ٢ درجة

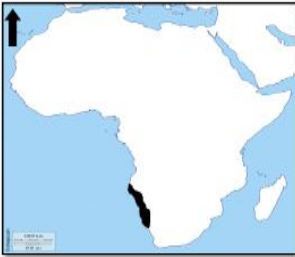
١ - قال تعالى "وَالْعَصْرِ (١) إِنَّ الْإِنْسَانَ لَفِي خُسْرٍ (٢)" تدل هذه الآية الكريمة على أهمية:

أ- الأخلاق. ب- الصدق. ج- الوقت. د- الأمانة.

٢ - تزيد معدلات الأمطار السنوية عن ٢٥٠٠ ملمتر في بيئة:

أ- الصحاري. ب- الغابات المدارية. ج- الحشائش المدارية. د- التندرا.

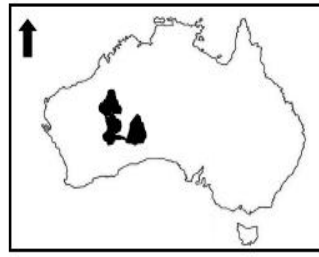
٣ - الرمز الصحيح للخريطة التي توضح موقع صحراء ناميبيا:



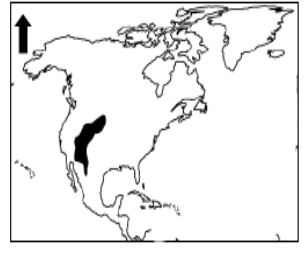
(د)



(ج)



(ب)



(أ)

٤ - عُقد أول مؤتمر عالمي للبيئة تحت رعاية الأمم المتحدة عام:

أ- ١٩٧٢ م. ب- ١٩٨٢ م. ج- ١٩٩٢ م. د- ٢٠٠٢ م.

٥- المهنة الموضحة في الصورة التي أمامك تحتاج إلى:

أ- خبرة وتأهيل دراسي متوسط. ب- تأهيل دراسي عالي.



ج- خبرة وتأهيل دراسي عالي. د- لا تحتاج إلى تأهيل دراسي.

يتبع/٢

(٢)


المادة: الدراسات الاجتماعية الصف: السادس الدور الأول - الفصل الدراسي الثاني
العام الدراسي ٢٠١٨/٢٠١٩م

تابع السؤال الأول:

٦ - تعتبر من أساليب صيانة التربة وحمايتها من الانجراف ماعدًا:

أ- التحريج. ب- المدرجات الحجرية. ج- الزراعة البدائية. د- الرعي المنظم.

٧ - يتكيف النبات في الصورة المقابلة مع الجفاف في البيئة الصحراوية من خلال:



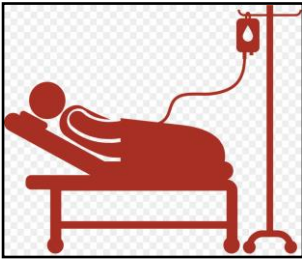
أ- جذور ممتدة. ب- جذور قصيرة.

ج- جذور طويلة. د- سيقان شمعية.

٨- تبلغ نسبة الأدوية التي تُستخلص من نباتات بيئة الغابات الاستوائية:

أ- ٢٠% ب- ٤٠% ج- ٦٠% د- ٨٠%

٩- تمثل الصورة التي أمامك واجباً من الواجبات التي يجب ان تؤديها لوطنك:



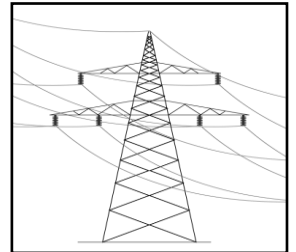
(د)



(ج)



(ب)



(أ)

١٠ - يقصد بالمكان الذي يضم أنواعاً محددة من النباتات الطبيعية والحيوانات البرية والكائنات الحية:

أ - النظام البيئي. ب- المحمية الطبيعية. ج- التنوع الاحيائي. د- التمثيل الضوئي.

١١ - عمل النبي نوح عليه السلام في مهنة:

أ - رعي الغنم. ب- النجارة. ج- الخياطة. د- صناعة الدروع.

(٣)

المادة: الدراسات الاجتماعية الصف : السادس الدور الأول - الفصل الدراسي الثاني
العام الدراسي ٢٠١٨/٢٠١٩ م

تابع السؤال الأول:

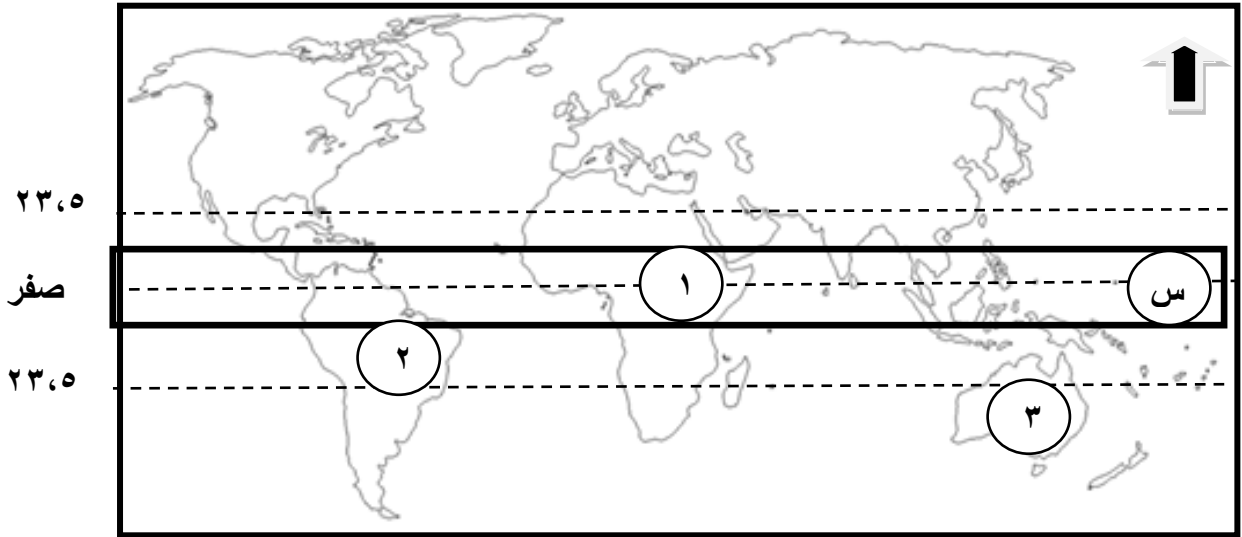
١٢- تمنح جائزة السلطان قابوس للبيئة كل:

أ- عام. ب- عامين. ج- ثلاثة أعوام. د- أربعة أعوام.

(٨ درجات)

السؤال الثاني: أجب عن الأسئلة الآتية:

أولاً : أمامك خريطة العالم، انظر إليها جيداً، ثم أجب عن الأسئلة الآتية:



١- الرقم الذي يشير إلى الدولة التي عُقد بها مؤتمر (قمة الأرض) عام ١٩٩٢ م. (.....)

٢- يشير الإمتداد العرضي المشار إليه بالرمز (س) إلى بيئة. (.....)

٣- الرقم الذي يشير إلى الصحراء الرملية العظمى. (.....)

٤- تتعرض بيئة السافانا في المنطقة المشار إليها بالرقم (١) إلى مشاكل بيئية أهمها:

..... '

ثانياً : أجب عن الأسئلة الآتية:

أ- أكتب بين القوسين المصطلح أو المفهوم الصحيح لكل عبارة مما يأتي:

١- عملية تنظيم الوقت واستغلاله في الأعمال الصحيحة والنافعة (.....).

٢- صفوف من الأشجار تزرع لحماية التربة من التعرية الريحية (.....).

(٤)

المادة: الدراسات الاجتماعية الصف : السادس الدور الأول - الفصل الدراسي الثاني
العام الدراسي ٢٠١٨/٢٠١٩ م

تابع السؤال الثاني:

ب- صنف السلوكيات الآتية حسب القيم الاجتماعية المناسبة بكتابتها في الجدول الآتي:
(مواجهة الآخرين بالحقائق - حفظ حقوق الناس - تنفيذ الأعمال في مواعيدها
- ممارسة الأعمال البسيطة).

السلوكيات	القيم الاجتماعية
	الأمانة
	احترام المواعيد
	تقدير العمل
	الصدق

(٨ درجات)

السؤال الثالث: أجب عن الأسئلة الآتية:

أولاً: اقرأ النص التالي ، ثم أجب عن الاسئلة الآتية:

"التعليم ركن أساسي لتقدم المجتمع، ترعاه الدولة وتسعى لنشره وتعميمه كما يهدف التعليم إلى رفع المستوى الثقافي العام وتطويره، وتنمية التفكير العلمي، كما أن الدولة تعمل على مكافحة الأمية وتشجيع إنشاء المدارس، وترعى التراث الوطني وتحافظ عليه."

١- أختَر الإجابة الصحيحة بوضع الرمز (√)

- يعتبر التعليم للمواطن من ضمن: الحقوق الواجبات

٢- ما أهداف التعليم في النظام الأساسي للدولة كما وردت في النص؟


..... ،

٣- وضح دور الدولة في نشر التعليم والحفاظ على التراث الوطني؟

.....

(٥)

المادة: الدراسات الاجتماعية الصف : السادس الدور الأول - الفصل الدراسي الثاني
العام الدراسي ٢٠١٨/٢٠١٩ م



تابع السؤال الثالث :

ثانياً : أدرس الصورة التي أمامك ثم أجب عن الأسئلة الآتية:

١- سم أسلوب صيانة التربة الموضح أمامك؟

.....

٢- في أي منطقة جبلية طبق هذا الإسلوب بسلطنة عمان؟

.....

٣- ما الهدف من هذا الإسلوب ؟

.....

ثالثاً : أذكر واحدة لكل من:

١- المشكلات البيئية التي يتأثر بها الغلاف الحيوي.

.....

٢ - المواعيد التي يحرص المسلم على التقيد بها.

.....

(٦ درجات)

السؤال الرابع : أجب عن الأسئلة الآتية:

أولاً: علل ما يأتي:

١- تتعرض الغابات المدارية المطيرة حالياً إلى التدمير.

.....

٢- أوجب الإسلام الأمانة بين أفراد المجتمع.

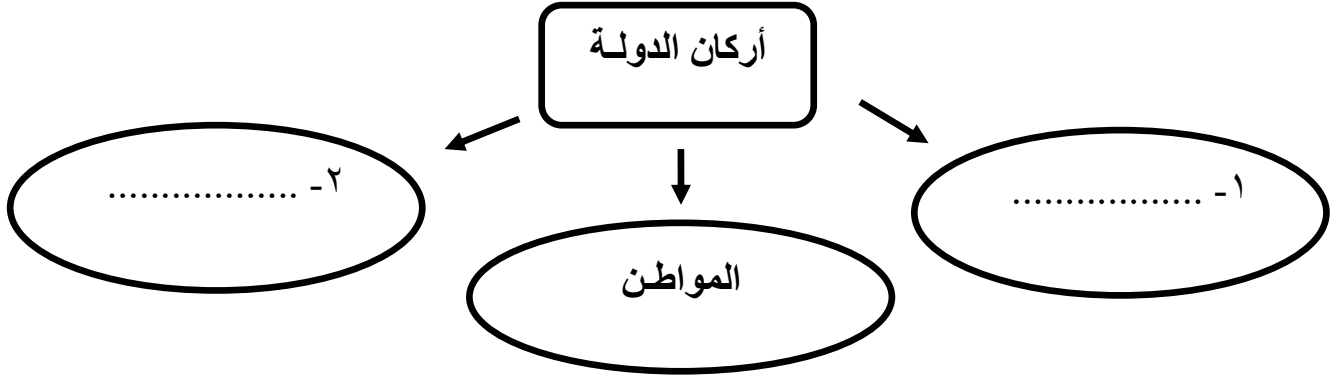
.....

(٦)

المادة: الدراسات الاجتماعية الصف : السادس الدور الأول - الفصل الدراسي الثاني
العام الدراسي ٢٠١٨/٢٠١٩ م

تابع السؤال الرابع:

ثانياً : أكمل خريطة المفاهيم الآتية والتي توضح أركان الدولة:



ثالثاً : عرف ما يلي:

١- النظام الأساسي للدولة.

.....
.....

٢- التصحر.

.....
.....

(٦ درجات)

السؤال الخامس : أجب عن الأسئلة الآتية:

أولاً: أكتب كلمة (مرغوب) أو (غير مرغوب) في المكان المناسب للعبارات الآتية:

١- زيارة أقاربي وأصدقائي أسبوعياً. (.....)

٢- الذهاب إلى المدرسة يومياً في وقت متأخر. (.....)

يتبع/٧

(٧)

المادة: الدراسات الاجتماعية الصف : السادس الدور الأول - الفصل الدراسي الثاني
العام الدراسي ٢٠١٨/٢٠١٩ م

تابع السؤال الخامس :

ثانياً : أنظر إلى الشكل الذي أمامك ثم أجب عن الأسئلة الآتية:

السنة	١٩٩٧ م (ألف عامل)	١٩٩٨ م (ألف عامل)	١٩٩٩ م (ألف عامل)	٢٠٠٠ م (ألف عامل)
العمالة الوطنية	٣٤	٤٦	٥٠	٥٣
العمالة الوافدة	٤٩٤	٤٨٣	٤٧٥	٤٨١

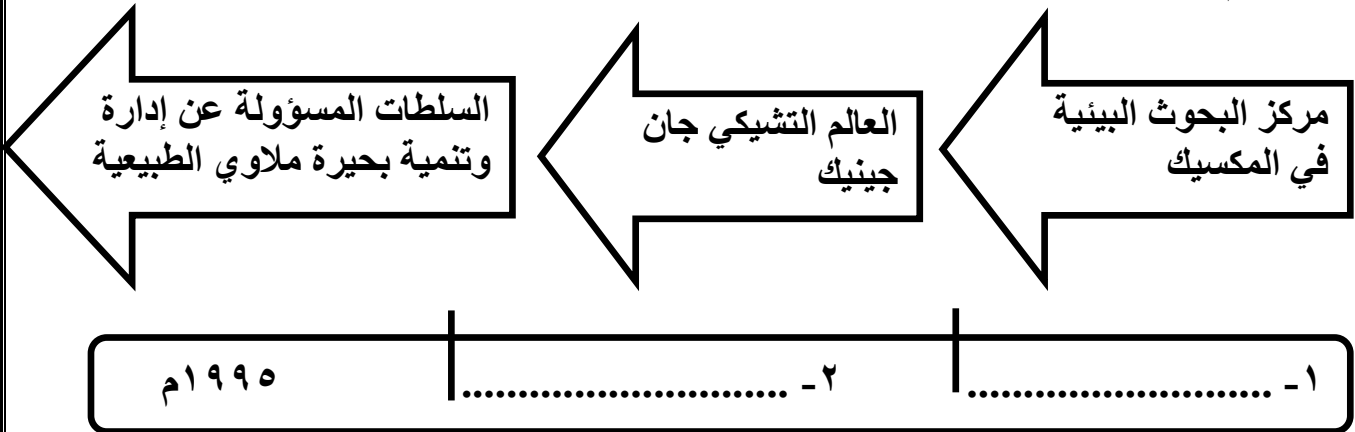
١- ما السنة الأقل في عدد العمالة الوافدة؟

.....

٢- ما أسباب زيادة القوى العاملة الوطنية من سنة إلى أخرى؟

.....

ثالثاً : أكمل المسطرة الزمنية التي توضح المسيرة التاريخية لجائزة السلطان قابوس لحماية البيئة
بكتابة العام الميلادي الذي منحت فيه الجوائز للفائزين :




انتهت الأسئلة مع الدعاء للجميع بالتوفيق والنجاح.



نموذج إجابة امتحان الصف السادس
للعام الدراسي ١٤٤٠/١٤٣٩ هـ - ٢٠١٨/٢٠١٩ م
الدور الأول - الفصل الدراسي الثاني

المادة: الدراسات الاجتماعية
تنبيه: نموذج الإجابة في (٦) صفحات.
الدرجة الكلية: (٤٠) درجة.

أولاً: إجابة السؤال الموضوعي:

إجابة السؤال الأول		الدرجة الكلية : ١٢ درجة			
المفردة	البديل الصحيح	الإجابة	الدرجة	الصفحة	المستوى المعرفي
١	ج	الوقت.	درجة	٦٣	معرفة
٢	ب	الغابات المدارية.	درجة	١٩	معرفة
٣	د		درجة	٣٠	فهم وتطبيق
٤	أ	١٩٧٢ م.	درجة	٤٧	معرفة
٥	أ	خبرة وتأهيل دراسي متوسط.	درجة	٧٥	فهم وتطبيق
٦	ج	الزراعة البدائية.	درجة	٤١	معرفة
٧	د	سيقان شمعية.	درجة	٣٣	فهم وتطبيق
٨	ب	٤٠%.	درجة	٢٤	معرفة

(٢)
 نموذج إجابة امتحان الصف السادس
 للعام الدراسي ١٤٣٩/١٤٤٠ هـ - ٢٠١٨/٢٠١٩ م
 الدور الأول - الفصل الدراسي الثاني
 المادة : الدراسات الإجتماعية

تابع أولاً: إجابة السؤال الموضوعي:

تابع إجابة السؤال الأول					
المستوى المعرفي	الصفحة	الدرجة	الإجابة	البديل الصحيح	المفردة
فهم وتطبيق	٥٥	درجة		ج	٩
معرفة	١٢	درجة	النظام البيئي.	أ	١٠
معرفة	٧٢	درجة	النجارة.	ب	١١
معرفة	٤٨	درجة	عامين.	ب	١٢

ثانياً: إجابة الأسئلة المقالية:

إجابة السؤال الثاني					
الدرجة الكلية: (٨) درجات					
المستوى المعرفي	الصفحة	الدرجة	الإجابة الصحيحة	المفردة	الجزئية
فهم وتطبيق	٤٧	درجة	(٢) .	١	أولاً
فهم وتطبيق	١٩	درجة	بيئة الغابات المدارية.	٢	
فهم وتطبيق	٣٠	درجة	(٣) .	٣	
فهم وتطبيق	٢٨	درجة لكل مفردة نصف درجة	الرعي الجائر – التحطيب – استنزاف التربة – الجفاف – التصحر. (يكتفي بذكر اثنين)	٤	

(٣)

تابع نموذج إجابة امتحان الصف السادس
للعام الدراسي ١٤٣٩/١٤٤٠ هـ - ٢٠١٨/٢٠١٩ م
الدور الأول - الفصل الدراسي الثاني
المادة : الدراسات الاجتماعية

تابع ثانيا: إجابة الأسئلة المقالية:

تابع إجابة السؤال الثاني					
المستوى المعرفي	الصفحة	الدرجة	الإجابة الصحيحة	المفردة	الجزئية
معرفة	٦٤	درجة	١ - إدارة الوقت.	أ	ثانيا
معرفة	٤٠	درجة	٢ - مصدات الرياح.		
قدرات عليا	٦١ ٦٦ ٧١ ٦١	درجتان لكل مفردة نصف درجة	السلوكيات	القيم الاجتماعية	
			حفظ حقوق الناس.	الأمانة	
			تنفيذ الاعمال في مواعيدها.	احترام المواعيد	
			ممارسة الاعمال البسيطة.	تقدير العمل	
			مواجهة الاخرين بالحقائق.	الصدق	

(٤)

تابع نموذج إجابة امتحان الصف السادس
للعام الدراسي ١٤٣٩/١٤٤٠ هـ - ٢٠١٨/٢٠١٩ م
الدور الاول - الفصل الدراسي الثاني
المادة : الدراسات الاجتماعية

إجابة الأسئلة المقالية:

الدرجة الكلية (٨) درجات				إجابة السؤال الثالث	
المستوى المعرفي	الصفحة	الدرجة	الإجابة الصحيحة	المفردة	الجزئية
معرفة	٥٤	درجة	الحقوق. <input type="checkbox"/>	١	
معرفة	٥٢	درجة لكل نصف درجة	- رفع المستوى الثقافي العام وتطويره. - تنمية التفكير العلمي. بما يفيد المعنى	٢	
معرفة	٥٢	درجة	مكافحة الامية - تشجيع انشاء المدارس - ترعى التراث الوطني وتحافظ عليه - تشجع البحوث والفنون والآداب وتساعد على انتشارها. (يكتفي بذكر واحدة)	٣	أولاً
فهم وتطبيق	٤١	درجة	المدرجات الحجرية - المدرجات الجبلية.	١	ثانياً
فهم وتطبيق	٤١	درجة	الجبل الأخضر.	٢	
فهم وتطبيق	٤١	درجة	صيانة التربة من الانجراف.	٣	
معرفة	١٥	درجة	- تناقص مساحات الغابات الطبيعية - انجراف التربة - انقراض الحيوانات البرية. (يكتفي بذكر واحدة)	١	ثالثاً
معرفة	٦٩	درجة	- مواقيت الصلاة - الحضور الى المدرسة - ممارسة الرياضة. <u>يكتفي بذكر واحدة</u> (بما يفيد المعنى)	٢	

(٥)

تابع نموذج إجابة امتحان الصف السادس
للعام الدراسي ١٤٣٩/١٤٤٠ هـ - ٢٠١٨/٢٠١٩ م
الدور الأول - الفصل الدراسي الثاني
المادة : الدراسات الاجتماعية

إجابة الأسئلة المقالية:

الدرجة الكلية (٦) درجات			إجابة السؤال الرابع		
المستوى المعرفي	الصفحة	الدرجة	الإجابة الصحيحة	المفردة	الجزئية
قدرات عليا	٢٢	درجة	١- بسبب تزايد قطع أشجارها.	١	أولاً
قدرات عليا	٥٩	درجة	- لأنها صفة من صفات المواطن الصالح - يحافظ على استقرار حياته ومجتمعه - يساعد على تقدم مجتمعه ورقبه. <u>يكتفى بذكر واحدة (بما يفيد المعنى)</u>	٢	
قدرات عليا	٥٠	درجة	١- الأرض / الوطن.	١	ثانياً
قدرات عليا	٥٠	درجة	٢- الحكومة.	٢	
معرفة	٥١	درجة	هو وثيقة رسمية تعرف بالدولة ، وبنظام الحكم فيها ، وتحدد المبادئ الموجهة لسياستها في المجالات المختلفة ، كما تبين الحقوق والواجبات العامّة.	١	ثالثاً
معرفة	٢٨	درجة	تحول الأراضي الزراعية والرعية الى مناطق شبه صحراوية أو صحراوية.	٢	

(٦)

تابع نموذج إجابة امتحان الصف السادس
للعام الدراسي ١٤٣٩/١٤٤٠ هـ - ٢٠١٨/٢٠١٩ م
الدور الأول - الفصل الدراسي الثاني
المادة : الدراسات الاجتماعية

إجابة الأسئلة المقالية:

الدرجة الكلية (٦) درجات			إجابة السؤال الخامس		
المستوى المعرفي	الصفحة	الدرجة	الإجابة الصحيحة	المفردة	الجزئية
معرفة	٦٩	درجة	مرغوب.	١	أولاً
معرفة	٦٩	درجة	غير مرغوب.	٢	
فهم وتطبيق	٧٨	درجة	عام ١٩٩٩ م.	١	ثانياً
فهم وتطبيق	٧٨ ٧٩	درجة	جهود وزارة القوى العاملة في الحد من استقدام العمالة الوافدة للسلطنة / توفير اليد العاملة الوطنية المدربة/ زيادة عدد السكان <u>يكتفى بذكر واحدة (بما يفيد المعنى)</u>	٢	
قدرات عليا	٤٨	درجة	١ - ١٩٩١ م.	١	ثالثاً
قدرات عليا	٤٨	درجة	٢ - ١٩٩٣ م.	٢	

نهاية نموذج الإجابة